

خلاصه درس



فصل ۱ | تابع

درس اول: توابع چندجمله‌ای

تعریف تابع چندجمله‌ای

صورت کلی این‌گونه از توابع به زبان ریاضی به شکل زیر است:

$$P(x) = a_n x^n + a_{n-1} x^{n-1} + \dots + a_2 x^2 + a_1 x + a_0 \quad (a_n \neq 0)$$

که در آن ضریب‌های a_0, a_1, \dots, a_n اعدادی حقیقی و توان‌ها اعدادی حسابی هستند.

به بیان ساده، در توابع چندجمله‌ای، متغیر، زیر رادیکال یا در مخرج

کسر یا در توان قرار ندارد. برای نمونه توابع $f(x) = \frac{1}{x}$ ، $g(x) = \sqrt{x}$ و

$h(x) = x^x$ چندجمله‌ای نیستند، اما توابع $y = \frac{1}{3}x^2$ و $y = \sqrt{3}x^2 + 2x$

چندجمله‌ای محسوب می‌شوند.

انواع چندجمله‌ای‌ها

به‌طور کلی، نوع یک تابع چندجمله‌ای با توجه به بزرگ‌ترین توان متغیر آن مشخص می‌گردد. بزرگ‌ترین توان متغیر در یک چندجمله‌ای را **درجه آن** چندجمله‌ای می‌نامیم.

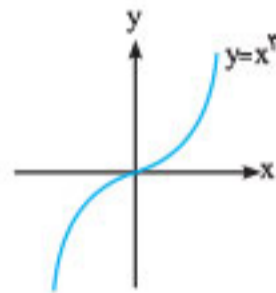
تاکنون با چندجمله‌ای‌های درجه اول یا توابع خطی و درجه دوم یا سهمی‌ها آشنا شده‌ایم. اکنون می‌خواهیم با چندجمله‌ای‌های درجه سوم به فرم کلی $f(x) = a_3 x^3 + a_2 x^2 + a_1 x + a_0$ (که $a_3 \neq 0$) به‌خصوص با تابع $y = x^3$ آشنا شویم.

چندجمله‌ای‌های معروف:

- ① توابع خطی: $f(x) = ax + b$
- الف) تابع ثابت: $y = b$
- ب) تابع همانی: $y = x$
- ② توابع درجه دوم (سهمی‌ها): $f(x) = ax^2 + bx + c$
- ③ توابع درجه سوم: $f(x) = ax^3 + bx^2 + cx + d$

بررسی تابع $y = x^3$ و ویژگی‌های آن

نمودار این تابع به شکل مقابل است:



■ دامنه و بُرد این تابع هر دو \mathbb{R} هستند.

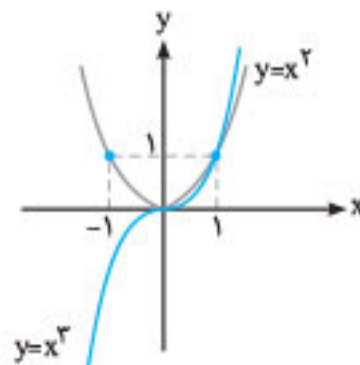
■ نمودار این تابع نسبت به مبدأ مختصات متقارن است، یعنی اگر از هر نقطه روی این نمودار به مبدأ وصل کرده و به اندازه خود امتداد دهیم، به نقطه‌ای دیگر از همان نمودار می‌رسیم.

■ این تابع یک‌به‌یک و در نتیجه وارون‌پذیر است.

مقایسه نمودار دو تابع $y = x^2$ و $y = x^3$

همان‌طور که در نمودار روبه‌رو می‌بینیم: این دو تابع دارای دو نقطه تقاطع هستند. زیرا داریم:

$$\begin{aligned} x^3 &= x^2 \Rightarrow x^3 - x^2 = 0 \\ &\Rightarrow x^2(x-1) = 0 \Rightarrow \begin{cases} x = 0 \\ x = 1 \end{cases} \end{aligned}$$



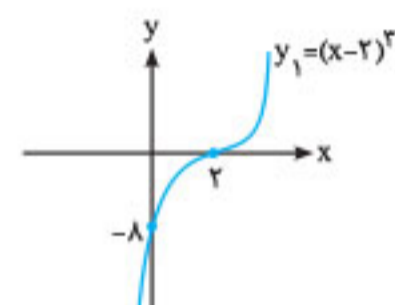
و در بازه $(0, 1)$ نمودار تابع $y = x^3$ پایین نمودار $y = x^2$ قرار می‌گیرد (چون اعداد بین صفر و یک هرچه قدر دارای توان بیشتری باشند، مقدار کوچک‌تری ایجاد می‌کنند). اما در بازه $(1, +\infty)$ نمودار $y = x^3$ از نمودار $y = x^2$ بالاتر است. در بازه $(-\infty, 0)$ نیز نمودار $y = x^3$ پایین نمودار $y = x^2$ قرار می‌گیرد.

رسم توابع درجه سوم پیچیده‌تر به کمک انتقال

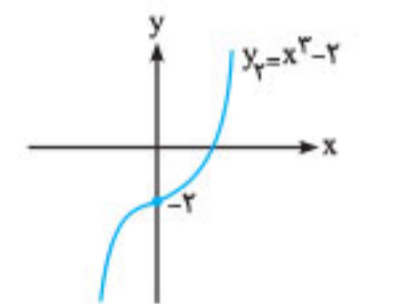
به کمک قوانین انتقال نمودارها می‌توانیم توابع درجه سوم پیچیده‌تر از $y = x^3$ را نیز رسم نماییم.

مثال: توابع $y_1 = (x-2)^3$ ، $y_2 = x^3 - 2$ و $y_3 = -x^3$ را به‌طور جداگانه رسم کنید.

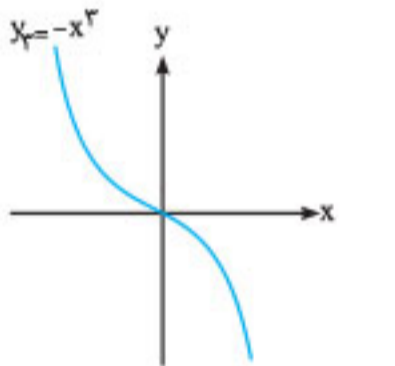
پاسخ: برای رسم نمودار تابع y_1 ، باید نمودار $y = x^3$ را دو واحد به راست انتقال دهیم.



برای رسم نمودار تابع y_2 ، باید نمودار $y = x^3$ را دو واحد به سمت پایین انتقال دهیم.



و در پایان، برای رسم نمودار تابع y_3 باید نمودار $y = x^3$ را نسبت به محور x ها قرینه کنیم.



توابع صعودی و توابع نزولی

تعریف: تابع f را در بازه‌ای مانند I صعودی گوییم، هرگاه برای هر x_1 و x_2 عضو بازه I داشته باشیم:

به‌طور مشابه، تابع f را روی بازه I نزولی می‌نامیم، هرگاه برای هر x_1 و x_2 در این بازه داشته باشیم:

تابع یکنوا: اگر تابع f در بازه I صعودی یا نزولی باشد، آن‌گاه گوییم f بر این بازه یکنواست.

تابع اکیدا یکنوا: اگر تابع f در بازه I ، اکیدا صعودی یا اکیدا نزولی باشد، آن‌گاه گوییم f بر این بازه اکیدا یکنواست (روی نمودار توابع اکیدا یکنوا حتی دو نقطه که دارای عرض‌های یکسان باشند هم پیدا نمی‌کنیم).

نکته: هر تابع اکیدا صعودی (اکیدا نزولی)، صعودی (نزولی) هم محسوب می‌شود. اما عکس این مطلب لزوماً درست نیست. یعنی هر تابع صعودی (نزولی) را نمی‌توان اکیدا صعودی (اکیدا نزولی) محسوب کرد.

به طور مشابه، داریم:

$$\cos^2 22/5^\circ = \frac{1 + \cos 45^\circ}{2} = \frac{1 + \frac{\sqrt{2}}{2}}{2} = \frac{2 + \sqrt{2}}{4}$$

$$\Rightarrow \cos 22/5^\circ = \frac{\sqrt{2 + \sqrt{2}}}{2} \Rightarrow \sin 67/5^\circ = \frac{\sqrt{2 + \sqrt{2}}}{2}$$

همچنین می‌دانیم:

$$\tan \alpha = \frac{\sin \alpha}{\cos \alpha} \Rightarrow \tan 67/5^\circ = \frac{\sqrt{2 + \sqrt{2}}}{\sqrt{2 - \sqrt{2}}} \times \frac{\sqrt{2 + \sqrt{2}}}{\sqrt{2 + \sqrt{2}}} = \frac{2 + \sqrt{2}}{\sqrt{4 - 2}} = \frac{2 + \sqrt{2}}{\sqrt{2}}$$

$$\Rightarrow \tan 67/5^\circ = \frac{2 + \sqrt{2}}{\sqrt{2}} \times \frac{\sqrt{2}}{\sqrt{2}} = \frac{2\sqrt{2} + 2}{2}$$

$$\Rightarrow \tan 67/5^\circ = 1 + \sqrt{2}$$

معادلات مثلثاتی

معادله‌ای که در آن اطلاعاتی از نسبت‌های مثلثاتی یک زاویه مجهول داریم، معادله مثلثاتی نام دارد. برای نمونه: معادله‌های $2 \sin x - 1 = 0$ یا $\cos 2x - \sin x = 0$ جزو معادلات مثلثاتی هستند.

جواب‌های کلی معادله سینوسی

اگر با استفاده از عملیات جبری و مثلثاتی، به معادله ساده $\sin x = \sin \alpha$ برسیم، تمام جواب‌های این معادله از روابط کلی زیر به دست خواهد آمد:

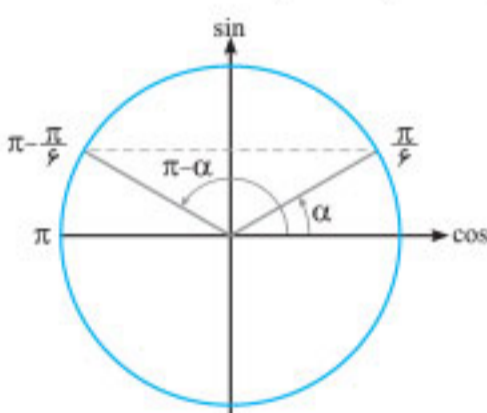
$$\begin{cases} x = 2k\pi + \alpha \\ x = 2k\pi + \pi - \alpha \end{cases} \quad (k \in \mathbb{Z})$$

بباید با ذکر یک مثال، چگونگی به دست آمدن روابط بالا را شهود کنیم.

مثال تمام جواب‌های معادله مثلثاتی $2 \sin x - 1 = 0$ را بیابید.

پاسخ

$$2 \sin x = 1 \Rightarrow \sin x = \frac{1}{2} = \sin \frac{\pi}{6} \Rightarrow x = \frac{\pi}{6}$$



درست است که زاویه اصلی که سینوسش $\frac{1}{2}$ می‌شود را پیدا کرده‌ایم، اما هدف ما از حل معادله، یافتن تمام جواب‌های ممکن برای معادله است، پس کار ما هنوز تمام نشده است! همان‌طور که در شکل مقابل می‌بینیم، اگر انتهای کمان

زاویه مورد نظر ما، در نقطه $\pi - \frac{\pi}{6}$ نیز باشد، باز هم سینوسش $\frac{1}{2}$ خواهد بود. در واقع همواره دو جا، سینوس مقداری بین 1 و -1 دارد: یکی خود α و دیگری $\pi - \alpha$. برای همین است که در روابط کلی بالا، هم α داریم و هم $\pi - \alpha$.

از طرفی می‌دانیم مثلاً مقدار $\sin 39^\circ$ نیز برابر $\frac{1}{2}$ است، زیرا:

$$\sin 39^\circ = \sin(36^\circ + 3^\circ) = \sin 3^\circ = \frac{1}{2}$$

پس علت این که در روابط بالا م ضرب زوج $(2k\pi)$ را اضافه کرده‌ایم، پوشش دادن به جواب‌هایی از معادله است که حاصل چرخیدن‌های کامل حول دایره هستند.

با توضیحات فوق، جواب‌های این معادله عبارت‌اند از:

$$x = 2k\pi + \frac{\pi}{6}, \quad x = 2k\pi + \pi - \frac{\pi}{6} = 2k\pi + \frac{5\pi}{6}$$

درس دوم: معادلات مثلثاتی

نسبت‌های مثلثاتی زوایای دوبرابر کمان (2α)

اگر نسبت‌های مثلثاتی زاویه α را داشته باشیم، با استفاده از روابط زیر می‌توانیم نسبت‌های مثلثاتی زاویه 2α را حساب کنیم. همچنین با داشتن نسبت‌های مثلثاتی 2α ، می‌توانیم به کمک روابط زیر، نسبت‌های مثلثاتی α را به دست آوریم.

① $\sin 2\alpha = 2 \sin \alpha \cos \alpha$

② $\cos 2\alpha = \cos^2 \alpha - \sin^2 \alpha$

نکته: دوستان دانش‌پژوه، به خاطر داشته باشید که روابط بالا فقط مخصوص فرم 2α نیست، بلکه مهم آن است که کمان نسبت‌های مثلثاتی سمت چپ روابط فوق، همواره دوبرابر کمان نسبت‌های مثلثاتی سمت راست باشد. به عنوان مثال، با استفاده از قالب بالا می‌توانیم بنویسیم:

$$\sin \alpha = 2 \sin \frac{\alpha}{2} \cos \frac{\alpha}{2} \quad \text{یا} \quad \sin 4\alpha = 2 \sin 2\alpha \cos 2\alpha$$

$$\cos \alpha = \cos^2 \frac{\alpha}{2} - \sin^2 \frac{\alpha}{2} \quad \text{یا} \quad \cos 6\alpha = \cos^2 3\alpha - \sin^2 3\alpha$$

نکته ۲: روابط فرعی مربوط به نسبت‌های مثلثاتی 2α ، واضح است که از رابطه $\sin 2\alpha = 2 \sin \alpha \cos \alpha$ می‌توان نتیجه گرفت:

$$\sin \alpha \cos \alpha = \frac{1}{2} \sin 2\alpha$$

همچنین از رابطه $\cos 2\alpha = \cos^2 \alpha - \sin^2 \alpha$ (چنانچه در سمت راست یک‌بار به جای $\sin^2 \alpha$ قرار دهیم $1 - \cos^2 \alpha$ و بار دیگر به جای $\cos^2 \alpha$ قرار دهیم $1 - \sin^2 \alpha$)، به دو رابطه مفید زیر خواهیم رسید:

$$\cos 2\alpha = 2 \cos^2 \alpha - 1$$

$$\cos 2\alpha = 1 - 2 \sin^2 \alpha$$

نکته: فرمول‌های کاهش توان (طلایی)

اگر از رابطه $\cos 2\alpha = 2 \cos^2 \alpha - 1$ مقدار $\cos^2 \alpha$ را به دست آوریم، خواهیم داشت:

$$\cos^2 \alpha = \frac{1 + \cos 2\alpha}{2}$$

به طور مشابه، اگر در رابطه $\cos 2\alpha = 1 - 2 \sin^2 \alpha$ مقدار $\sin^2 \alpha$ را بیابیم:

$$\sin^2 \alpha = \frac{1 - \cos 2\alpha}{2}$$

مثال نسبت‌های مثلثاتی زاویه $67/5^\circ$ را حساب کنید.

پاسخ می‌دانیم $22/5^\circ + 67/5^\circ = 90^\circ$ ، پس دو زاویه $22/5^\circ$ و $67/5^\circ$ متمم یکدیگرند و داریم:

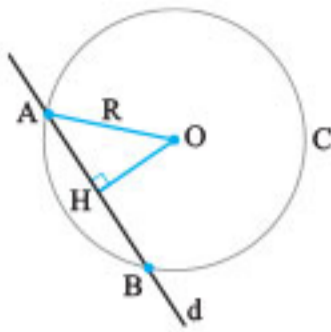
$$\begin{cases} \sin 67/5^\circ = \cos 22/5^\circ \\ \cos 67/5^\circ = \sin 22/5^\circ \end{cases}$$

از طرفی با توجه به فرمول‌های کاهش توان می‌توان نوشت:

$$\sin^2 22/5^\circ = \frac{1 - \cos(2 \times 22/5^\circ)}{2} \Rightarrow \sin^2 22/5^\circ = \frac{1 - \cos 45^\circ}{2}$$

$$\Rightarrow \sin^2 22/5^\circ = \frac{1 - \frac{\sqrt{2}}{2}}{2} = \frac{1}{2} - \frac{\sqrt{2}}{4} = \frac{2 - \sqrt{2}}{4} \Rightarrow \sin 22/5^\circ = \frac{\sqrt{2 - \sqrt{2}}}{2}$$

$$\Rightarrow \cos 67/5^\circ = \frac{\sqrt{2 - \sqrt{2}}}{2}$$



مثال در شکل روبه‌رو نقطه $O(2, -3)$ مرکز دایره است. این دایره روی خط d به معادله $2x - 4y + 2 = 0$ وترى به طول 6 جدا کرده است. معادله دایره را بنویسید.

پاسخ

$$OH = \frac{|2x_0 - 4y_0 + 2|}{\sqrt{2^2 + (-4)^2}}$$

$$\Rightarrow OH = \frac{|2(2) - 4(-3) + 2|}{\sqrt{9 + 16}} \Rightarrow OH = \frac{20}{5} = 4$$

$$AB = 6 \Rightarrow AH = 6 \div 2 = 3$$

در مثلث AOH رابطه فیثاغورس را می‌نویسیم:

$$OA^2 = OH^2 + AH^2 \Rightarrow R^2 = 4^2 + 3^2 \Rightarrow R^2 = 25 \Rightarrow R = 5$$

«شعاع دایره مطلوب»

$$\Rightarrow (x - 2)^2 + (y + 3)^2 = 25$$

«معادله دایره مطلوب»

نکته: نوشتن معادله خط مماس بر دایره در نقطه‌ای واقع بر دایره.

ابتدا مختصات مرکز دایره را می‌یابیم، سپس شیب خطی که مرکز دایره را به نقطه تماس وصل می‌کند، پیدا می‌کنیم. آن‌گاه از آن‌جا که خط مماس بر دایره، در نقطه تماس بر شعاع عمود است، شیب شعاع تماس را عکس و قرینه می‌کنیم تا شیب مماس پیدا شود. با داشتن شیب مماس و معلوم بودن مختصات نقطه‌ای از آن، معادله خط مماس را می‌نویسیم.

مثال خط d در نقطه $A(4, 3)$ بر دایره C به مرکز مبدأ مختصات مماس است. معادله خط مماس را بنویسید.

پاسخ

$$OA \text{ شیب} = \frac{3}{4} \Rightarrow \text{شیب خط مماس} = \frac{-3}{4}$$

$$\Rightarrow y - y_0 = m(x - x_0) \Rightarrow (y - 3) = -\frac{3}{4}(x - 4)$$

$$\xrightarrow{\times 4} 4y - 12 = -3x + 12 \Rightarrow 4y + 3x = 24$$
 «معادله خط مماس»

فصل ۱۷ احتمال

قانون احتمال کل

یادآوری: در سال‌های قبل دیدیم که پدیده‌ها در عالم بر دو نوع‌اند:

① **پدیده‌های قطعی:** پدیده‌هایی هستند که نتیجه آن‌ها از قبل به‌طور یقین قابل پیش‌بینی است. مانند آن‌که در پدیده رعد و برق، صدای رعد دیرتر از نور آن به ما خواهد رسید.

② **پدیده‌های تصادفی:** پدیده‌هایی هستند که نتیجه آن‌ها از قبل به‌طور یقین قابل پیش‌بینی نیست. مانند آن‌که در پرتاب تاس همگن، این‌که چه عددی رو می‌شود به‌طور قطعی قابل پیش‌بینی نیست.

فضای نمونه‌ای: مجموعه نتایج قابل پیش‌بینی از وقوع یک پدیده تصادفی را فضای نمونه‌ای آن پدیده می‌نامیم و با S نمایش می‌دهیم. برای نمونه در آزمایش پرتاب یک تاس، فضای نمونه‌ای به‌صورت مقابل است: $S = \{1, 2, 3, 4, 5, 6\}$ **برآمد:** به هر یک از اعضای فضای نمونه‌ای یک برآمد گوییم. برای نمونه در پرتاب تاس، 6 برآمد وجود دارد.

مثال معادله دایره‌ای را بنویسید که نقاط $A(0, 3)$ و $B(-4, -1)$ دو سر یکی از قطرهای آن باشند.

پاسخ

$$\begin{cases} x_0 = \frac{x_A + x_B}{2} \\ y_0 = \frac{y_A + y_B}{2} \end{cases} \Rightarrow \begin{cases} x_0 = \frac{-4 + 0}{2} = -2 \\ y_0 = \frac{-1 + 3}{2} = 1 \end{cases} \Rightarrow O(-2, 1)$$

$$2R = AB = \sqrt{(-4 - 0)^2 + (-1 - 3)^2} = \sqrt{16 + 16} = 4\sqrt{2}$$

$$\Rightarrow R = 2\sqrt{2} \Rightarrow (x - \alpha)^2 + (y - \beta)^2 = R^2$$

$$\Rightarrow (x + 2)^2 + (y - 1)^2 = 8$$
 «معادله دایره مطلوب»

③ نوشتن معادله دایره‌ای که مختصات مرکزش معلوم است و بر خط معینی مماس می‌باشد.

ابتدا اندازه شعاع دایره را با استفاده از رابطه «فاصله نقطه از خط» می‌یابیم. سپس با داشتن مختصات مرکز و طول شعاع، معادله دایره را می‌نویسیم.

مثال معادله دایره‌ای را بنویسید که مرکز آن نقطه $(0, 3)$ بوده و بر خط $d: 2x - 4y = 3$ مماس باشد.

پاسخ

$$D = \frac{|ax_0 + by_0 + c|}{\sqrt{a^2 + b^2}} \xrightarrow{\substack{x_0=0 \\ y_0=3}} D = \frac{|2(0) - 4(3) - 3|}{\sqrt{2^2 + (-4)^2}}$$

$$\Rightarrow D = \frac{15}{5} = 3 \Rightarrow R = 3$$
 «شعاع دایره مطلوب»

$$(x - \alpha)^2 + (y - \beta)^2 = R^2 \Rightarrow (x - 0)^2 + (y - 3)^2 = 9$$

$$\Rightarrow x^2 + (y - 3)^2 = 9$$
 «معادله دایره مطلوب»

④ نوشتن معادله دایره‌ای که مختصات مرکزش معلوم است و با دایره دیگری مماس برون و یا درون است.

ابتدا مختصات مرکز و طول شعاع دایره دوم را می‌یابیم. سپس طول خط‌المركزین دو دایره را پیدا می‌کنیم و از رابطه $|R - R'| = OO'$ یا $R + R' = OO'$ شعاع دایره اولی را پیدا می‌کنیم. با داشتن شعاع و مختصات مرکز، معادله دایره اول را می‌نویسیم.

مثال معادله دایره‌ای را بنویسید که مرکز آن $O(-1, -1)$ بوده و با دایره $C': x^2 + y^2 - 4x - 6y = 3$ مماس درون باشد.

پاسخ

$$O'(2, 3), R' = \frac{1}{2}\sqrt{(-4)^2 + (-6)^2} - 4(-3) = \frac{1}{2}\sqrt{16 + 36} + 12$$

$$\Rightarrow R' = 4$$

$$OO' = \sqrt{(-1 - 2)^2 + (-1 - 3)^2} = \sqrt{9 + 16} \Rightarrow OO' = 5$$
 «طول خط‌المركزین»

$$|R - R'| = OO' \Rightarrow |R - 4| = 5$$

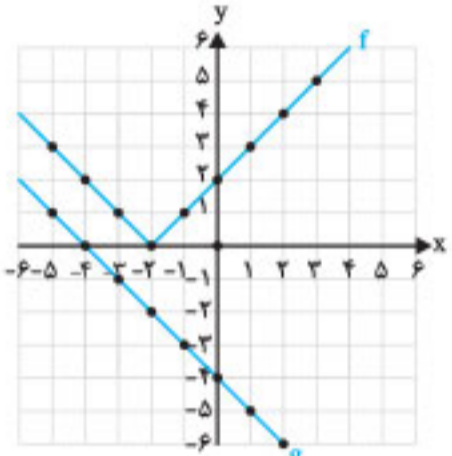
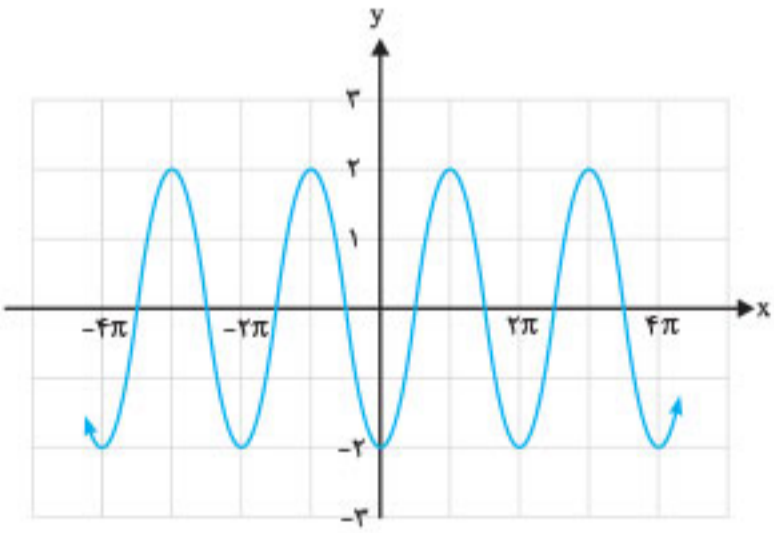
از طرفی:

$$\Rightarrow R - 4 = \pm 5 \Rightarrow \begin{cases} R = 9 \\ R = -1 \end{cases} \Rightarrow \begin{cases} (x + 1)^2 + (y + 1)^2 = 81 \\ (x + 1)^2 + (y + 1)^2 = 1 \end{cases}$$
 «معادله دایره مطلوب»

⑤ نوشتن معادله دایره‌ای که مختصات مرکزش معلوم است و بر خط معینی، وتری با طول معلوم جدا می‌کند.

ابتدا فاصله مرکز دایره از خط داده‌شده را می‌یابیم. سپس از آن‌جا که شعاع عمود بر وتر، آن را نصف می‌کند، با معلوم‌بودن طول وتر و فاصله مرکز از خط، طول شعاع دایره را با رابطه فیثاغورس پیدا می‌کنیم.

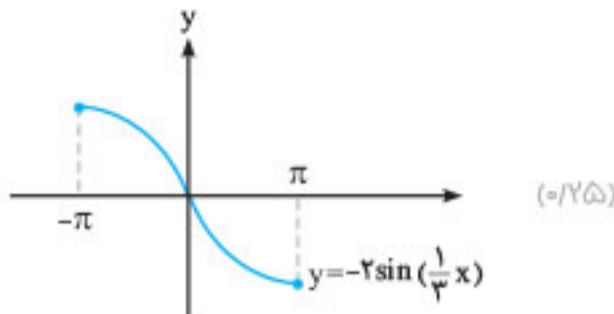
ردیف	سوالات	نمره
فصل اول		
۱	درستی یا نادرستی عبارتهای زیر را تعیین کنید. الف) اگر $k > 1$ باشد، نمودار $y = f(kx)$ از انبساط افقی نمودار $y = f(x)$ در راستای محور x ها به دست می‌آید. ب) تابع $y = \frac{1}{x}$ در دامنه خود یکنوا است.	-۱/۵
۲	نقطه $(4, -2)$ واقع بر نمودار $f(x)$ در نمودار تابع $g(x) = f(2x) + 1$ متناظر با نقطه است.	-۱/۲۵
۳	با توجه به نمودار تابع f که در روبه‌رو رسم شده است، معین کنید: پرتکرار الف) f در چه بازه‌های صعودی اکید و در کدام بازه نزولی اکید است؟ ب) f در کدام بازه صعودی و در کدام بازه نزولی است، اما اکیداً صعودی یا اکیداً نزولی نیست؟	۱
۴	به کمک نمودار $y = \sin x$ و قوانین انتقال نمودارها، نمودار تابع $y = -2\sin(\frac{1}{3}x)$ را در بازه $[-\pi, \pi]$ رسم کنید. پرتکرار	۱/۲۵
۵	تابع $f = \{(3, 2), (1, 0), (-1, 0), (-2, -1)\}$ صعودی است یا نزولی؟ چرا؟	-۱/۵
۶	تابع $y = x^2 + ax^2 - bx + c$ انتقال یافته تابع $f(x) = x^2$ به اندازه دو واحد در امتداد محور طول‌ها به سمت چپ و سه واحد در امتداد محور عرض‌ها به سمت پایین است. مقادیر a ، b و c را بیابید.	۱/۲۵
۷	ابتدا ضابطه تابع وارون تابع $f(x) = x^2 - 2x$ را با شرط $D_f = (-\infty, 1)$ بیابید، سپس نمودار $(f^{-1} \circ f)(x)$ را رسم کنید.	۱/۲۵
۸	اگر $f(x) = \frac{x+2}{x^2-1}$ و $g = \{(1, -3), (0, 1), (-2, 0)\}$ باشند، آنگاه تابع $f \circ g^{-1}$ را مشخص کنید.	۱/۲۵
فصل دوم		
۹	ضابطه تابعی به شکل $y = a \sin bx + c$ را بنویسید که ماکزیمم آن ۴، مینیمم آن ۲- و دوره تناوبش ۲ باشد. پرتکرار	۱
۱۰	معادله مثلثاتی $\cos 2x + 3 \cos x = -1$ را حل کنید و جواب‌های کلی آن را بنویسید. پرتکرار	۱/۲۵
۱۱	مثلثی با مساحت ۳ سانتی‌متر مربع مفروض است. اگر اندازه دو ضلع آن ۲ و ۶ واحد باشد، آنگاه چند مثلث با این مشخصات می‌توان رسم کرد؟ پرتکرار	۱
۱۲	درستی یا نادرستی عبارت زیر را تعیین کنید. نقاطی به فرم $x = k\pi + \frac{\pi}{4}; k \in \mathbb{Z}$ در دامنه تانژانت قرار ندارند. پرتکرار	-۱/۲۵
۱۳	جاهای خالی را با کلمات مناسب پر کنید. الف) اگر $\frac{3\pi}{4} < \alpha < 2\pi$ باشد، آنگاه $\tan \alpha$ $\sin \alpha$ است. ب) دوره تناوب تابع $f(x) = 3 \cos(3x) + 5$ برابر با است.	-۱/۲۵ -۱/۵
۱۴	گزینه درست را انتخاب کنید. الف) کمترین مقدار تابع $y = 1 - \sin x \cos x$ کدام است؟	-۱/۵
	$\frac{1}{2}$ (۱) $-\frac{1}{2}$ (۲) ۱ (۳) -۱ (۴)	

ردیف	سوالات	نمره
۱	<p>درستی یا نادرستی عبارتهای زیر را مشخص کنید.</p> <p>الف) تابع $y = \sqrt{2}x^2 - \frac{3}{4}x$ یک چندجمله‌ای از درجه ۳ است.</p> <p>ب) اگر $f(7) = 5$ و $g(4) = 7$، آن گاه $(f \circ g)(4) = 5$.</p> <p>پ) دو تابع $f(x) = -\frac{7}{2}x - 3$ و $g(x) = -\frac{2x+7}{6}$ وارون یکدیگرند.</p>	۰/۷۵
۲	<p>در جاهای خالی عبارت مناسب قرار دهید.</p> <p>الف) نمودار تابع $f(x) = x^2$ در بازه $(0, 1)$ از نمودار تابع $g(x) = x^2$ قرار دارد. (بالتر - پایین‌تر)</p> <p>ب) چندجمله‌ای $p(x) = 2x^2 + x^2 + 1$ بر دو جمله‌ای بخش‌پذیر است. $((x+1) - (x-1))$</p>	۰/۵
۳	<p>الف) با توجه به نمودار توابع f و g، مقادیر زیر را در صورت وجود به دست آورید.</p> <p>۱) $(g \circ f)(-1)$</p> <p>۲) $(g^{-1} \circ f^{-1})(2)$</p> <p>ب) نمودار تابع $f(x-2) - 3$ را رسم کنید.</p> 	۲
۴	<p>نمودار زیر برای تابعی با ضابطه $f(x) = a \cos(bx) + c$ است. با دقت به شکل نمودار و تشخیص دوره تناوب و مقادیر ماکزیمم و مینیمم تابع، ضابطه آن را مشخص کنید.</p> 	۱/۵
۵	معادله مثلثاتی $\cos 2x - \sin x + 1 = 1$ را حل کنید.	۱/۵
۶	حد توابع زیر را در صورت وجود محاسبه کنید.	۱/۷۵
	<p>الف) $\lim_{x \rightarrow \frac{1}{2}} \frac{2x^2 - x}{4x^2 - 1}$</p> <p>ب) $\lim_{x \rightarrow 0} \frac{x+1}{\sin^2 x}$</p>	

پاسخنامه تشریحی



در آخر قسمت واقع در بازه $[-\pi, \pi]$ را از نمودار می‌بریم:



(فصل ۱ / تبدیل توابع) (۰/۲۵)

۵ ابتدا x ها را مرتب می‌نویسیم:

$x \Rightarrow -2, -1, 1, 3$ (۰/۲۵)

سپس عرض هر کدام را زیرش قرار می‌دهیم: همان‌طور که می‌بینیم تابع صعودی است (۰/۲۵)

(فصل ۱ / یکنواپی)

۶

$f(x) = x^2 \xrightarrow[\text{به سمت چپ}]{\text{واحد انتقال افقی}} y = (x+2)^2$ (۰/۲۵)

$\xrightarrow[\text{به پایین}]{\text{واحد انتقال عمودی}} y = (x+2)^2 - 3 \Rightarrow y = x^2 + 4x + 1$ (۰/۲۵)

$\xrightarrow{\text{مقایسه}} a = 1, b = 4, c = 1$ (۰/۲۵)

(فصل ۱ / تبدیل توابع)

$y = (x^2 - 2x + 1) - 1$ (۰/۲۵)

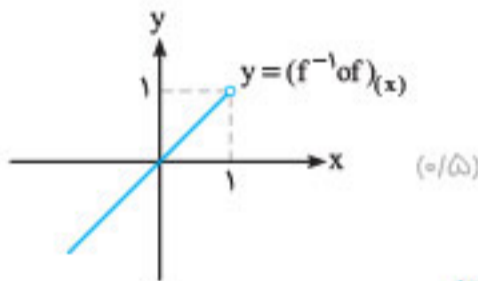
۷

$\Rightarrow y = (x-1)^2 - 1 \Rightarrow y+1 = (x-1)^2 \Rightarrow \sqrt{y+1} = |x-1|$ (۰/۲۵)

$\xrightarrow{x < 1} \sqrt{y+1} = -x+1$ (۰/۲۵)

$\Rightarrow x = 1 - \sqrt{y+1} \Rightarrow f^{-1}(x) = 1 - \sqrt{x+1}$ (۰/۲۵)

می‌دانیم: $(f^{-1} \circ f)(x) = x; x \in D_f$



(فصل ۱ / تابع وارون)

$g^{-1} = \{(-3, 1), (1, 0), (0, -2)\}$ (۰/۲۵)

۸

$x = -3 \Rightarrow g^{-1}(-3) = 1$

$\Rightarrow f(g^{-1}(-3)) = f(1) = \frac{1+2}{(1)^2-1} = \frac{3}{0}$ تعریف نشده (۰/۲۵)

$x = 1 \Rightarrow g^{-1}(1) = 0 \Rightarrow f(g^{-1}(1)) = f(0) = -2 \Rightarrow (1, -2)$ (۰/۲۵)

$x = 0 \Rightarrow g^{-1}(0) = -2 \Rightarrow f(g^{-1}(0)) = f(-2) = 0 \Rightarrow (0, 0)$ (۰/۲۵)

$\Rightarrow f \circ g^{-1} = \{(1, -2), (0, 0)\}$

(فصل ۱ / ترکیب توابع)

امتحان ۱ - نوبت اول



۱ الف) نادرست (اگر $k > 1$ باشد، منحنی در راستای افقی منقبض می‌شود.) (فصل ۱ / تبدیل توابع) (۰/۲۵)

ب) نادرست تابع $y = \frac{1}{x}$ در بازه‌های $(-\infty, 0)$ و $(0, +\infty)$ به‌طور جداگانه اکیداً نزولی است، ولی در دامنه‌اش غیر یکنواست. (فصل ۱ / یکنواپی) (۰/۲۵)

۲ $(2, -1)$ (فصل ۱ / تبدیل توابع) (۰/۲۵)

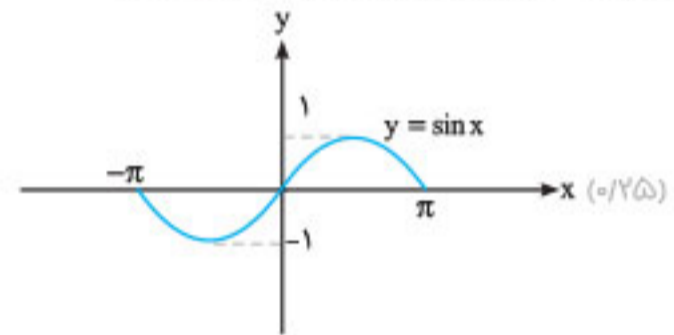
۳ الف) f در بازه $(2, 3)$ نزولی اکید و در بازه $(3, 4)$ صعودی اکید است. (۰/۵)

ب) f در بازه $(0, 3)$ نزولی است اما اکیداً نزولی نیست، همچنین f در بازه $(3, +\infty)$ صعودی است اما اکیداً صعودی نیست. (فصل ۱ / یکنواپی) (۰/۵)

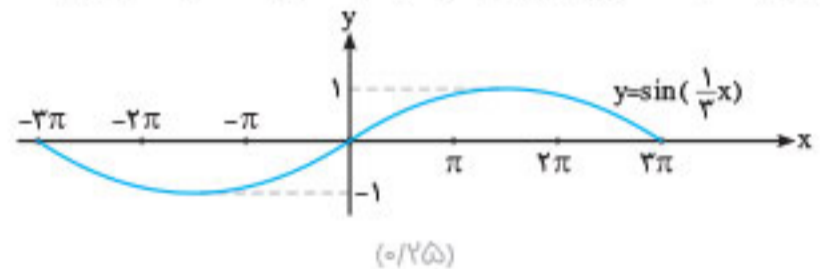
۴

$y = -2\sin(\frac{1}{3}x)$

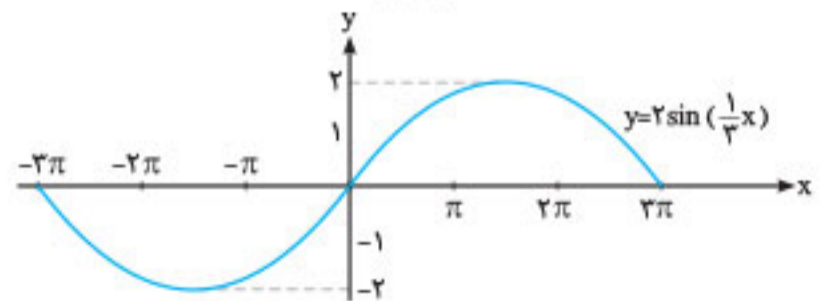
ابتدا نمودار $y = \sin x$ را در بازه $[-\pi, \pi]$ رسم می‌کنیم:



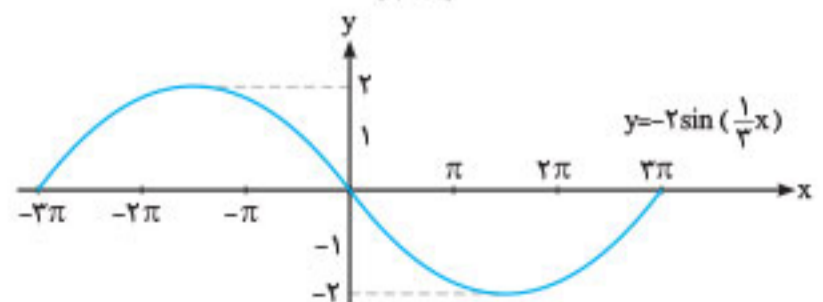
سپس آن را در راستای افقی با ضریب ۳ منبسط می‌کنیم، بعد در راستای عمودی با ضریب ۲ منبسط می‌کنیم و در آخر نسبت به محور x ها قرینه می‌کنیم:



(۰/۲۵)



(۰/۲۵)



(۰/۲۵)

۱۲ الف

$$f'(x) = -6x^2 + 6x + 12 = 0 \Rightarrow \begin{cases} x = -1 \\ x = 2 \end{cases}$$

x	-1	2
f'	-	+
f	-9	11
	min	max

f(0) = -9 min

f(2) = 11 max

f(3) = 0

(فصل ۵ / اکسترمهای تابع)

۱۳

$$xy = 32 \Rightarrow f(x) = (y+2)(x+4) = \frac{128}{x} + 40 + 2x$$

$$\Rightarrow f'(x) = -\frac{128}{x^2} + 2 = 0$$

$$\Rightarrow x = 8, y = 4$$

ابعاد صفحه ۱۲×۶ است.

(فصل ۵ / بهینه‌سازی)

FF' = |3 - (-5)| = 8 = 2c ⇒ c = 4

$$O \begin{cases} \frac{1+1}{2} = 1 \\ \frac{3-5}{2} = -1 \end{cases}$$

مرکز

و معادله قطر بزرگ: x = 1

b^2 = a^2 - c^2 = 36 - 16 = 20 ⇒ b = √20

⇒ BB' = 2√20, e = c/a = 2/3

(فصل ۶ / بیضی)

P(A) = P(B1)P(A|B1) + P(B2)P(A|B2)

$$P(A) = \frac{1}{2} \times \frac{8}{100} + \frac{1}{2} \times \frac{3}{100} = \frac{11}{200}$$

(فصل ۷ / احتمال کل)

۱۶

$$D_{gof} = \{x \in D_f | f(x) \in D_g\} = \{x \in (-\infty, 2] | \sqrt{4-2x} \in \mathbb{R}\} = (-\infty, 2]$$

(gof)(2) = f(g(2)) = f(0) = -1 - (-2) = 1

(فصل ۱ / ترکیب توابع)

f'(x) = 2x^2 + 2bx

f'(2) = 0 ⇒ 12 + 4b = 0 ⇒ b = -3

f(2) = 1 ⇒ 8 + 4b + d = 1 ⇒ d = 5

(فصل ۵ / اکسترمهای تابع)

امتحان ۸ - شهریور ماه ۱۳۹۹ (نوبت دوم)

۱ الف) درست (فصل ۱ / تبدیل توابع)

ب) نادرست: برابر ℝ است. (فصل ۲ / تابع تنازات)

پ) درست (فصل ۵ / اکسترمهای تابع)

۲ الف) یکنوا (فصل ۱ / یکنوایی)

ب) پیوسته (فصل ۴ / مشتق‌پذیری)

۳ الف)

Df = [1, +∞), Dg = ℝ ⇒ Dfog = {x ∈ Dg | g(x) ∈ Df}

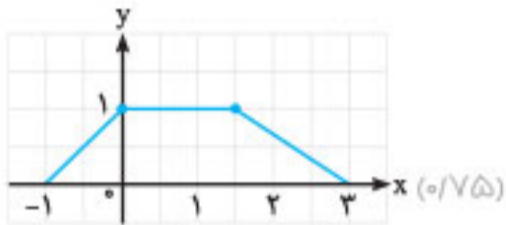
= {x ∈ ℝ | 2x^2 - 1 ∈ [1, +∞)}

⇒ Dfog = (-∞, -1] ∪ [1, +∞)

f(g(x)) = √(2x^2 - 2)

(فصل ۱ / ترکیب توابع)

۴



(فصل ۱ / تبدیل نمودار توابع)

۵

max = |a| + c = π + 1
min = -|a| + c = -π + 1

T = 2π / |-1| = 2π

(فصل ۲ / دوره تناوب)

۶

1 - sin^2 x - sin x = 1/4 ⇒ sin^2 x + sin x - 5/4 = 0

$$\Rightarrow \sin x = \frac{1}{2} \Rightarrow \begin{cases} x = 2k\pi + \frac{\pi}{6} \\ x = 2k\pi + \pi - \frac{\pi}{6} \end{cases}$$

sin x = -3/4 غ ق ق

(فصل ۲ / معادلات مثلثاتی)

۷

الف) lim_{x→2} (x-2)(x+2)(2+√(x+1)) / ((2-√(x+1))(2+√(x+1)))

= lim_{x→2} (x-2)(x+2)(2+√(x+1)) / -(x-2) = -24

ب) lim_{x→1/2} [x] - 3 / |2x - 1| = -3 / 0+ = -∞

پ) lim_{x→+∞} 2x^2 / 6x^2 = 1/3

(فصل ۳ / حد در بینهایت و حد بینهایت)

۸

A(4, 25)

3/2 = (yB - 25) / (5 - 4) ⇒ B(5, 26/5)

(فصل ۴ / شیب خط قاطع و مماس)

۹ الف) تابع f در صفر پیوسته نیست. بنابراین f'(0) موجود نیست

ب)

f'(x) = { 2x x > 0, 2 x < 0 }